

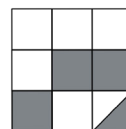
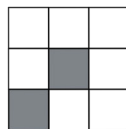
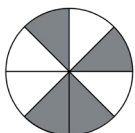
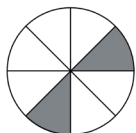
- 1) Bekijk de uitlegvideo op: ► 72-kwadraten



2) $5^2 =$ $3^2 =$ $2^2 =$ $7^2 =$ $8^2 =$ $10^2 =$

- 3) De figuren hieronder zijn in gelijke stukjes verdeeld.

Welk deel van de figuur is grijs? Schrijf steeds het breukgetal onder elke figuur.



4) $9^2 =$ $6^2 =$ $5^2 =$ $11^2 =$ $100^2 =$ $4^2 =$
 $7^2 =$ $8^2 =$ $1^2 =$ $4^2 =$ $12^2 =$ $5^2 =$

- 5) Een modern kunstwerk kost €900 maar je krijg 35% korting. Hoeveel moet je er dan voor betalen?



€900,-

6) $\left(\frac{1}{2}\right)^2 = \frac{1}{2} \times \frac{1}{2} = \frac{1}{4}$ $0,2^2 =$
 $\left(\frac{1}{3}\right)^2 =$ $0,01^2 =$
 $\left(\frac{2}{3}\right)^2 =$ $\left(\frac{1}{100}\right)^2 =$